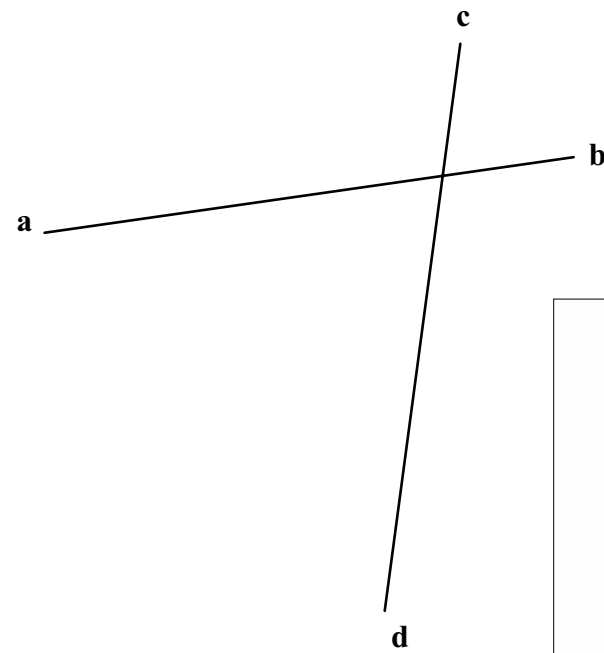
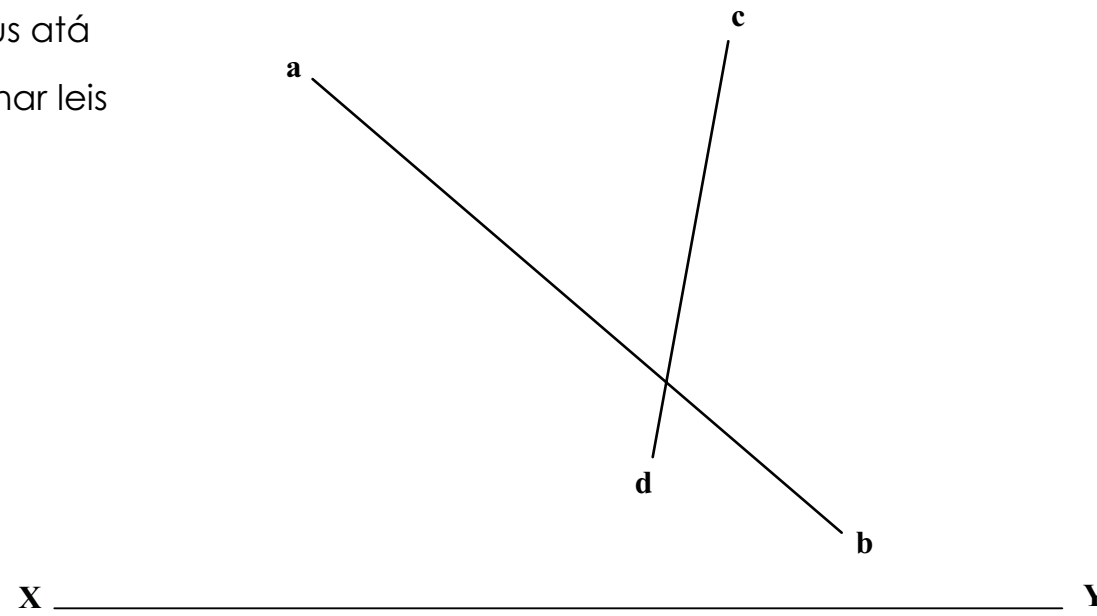


Léirítear anseo teilgin dhá line sceabhacha AB agus CD

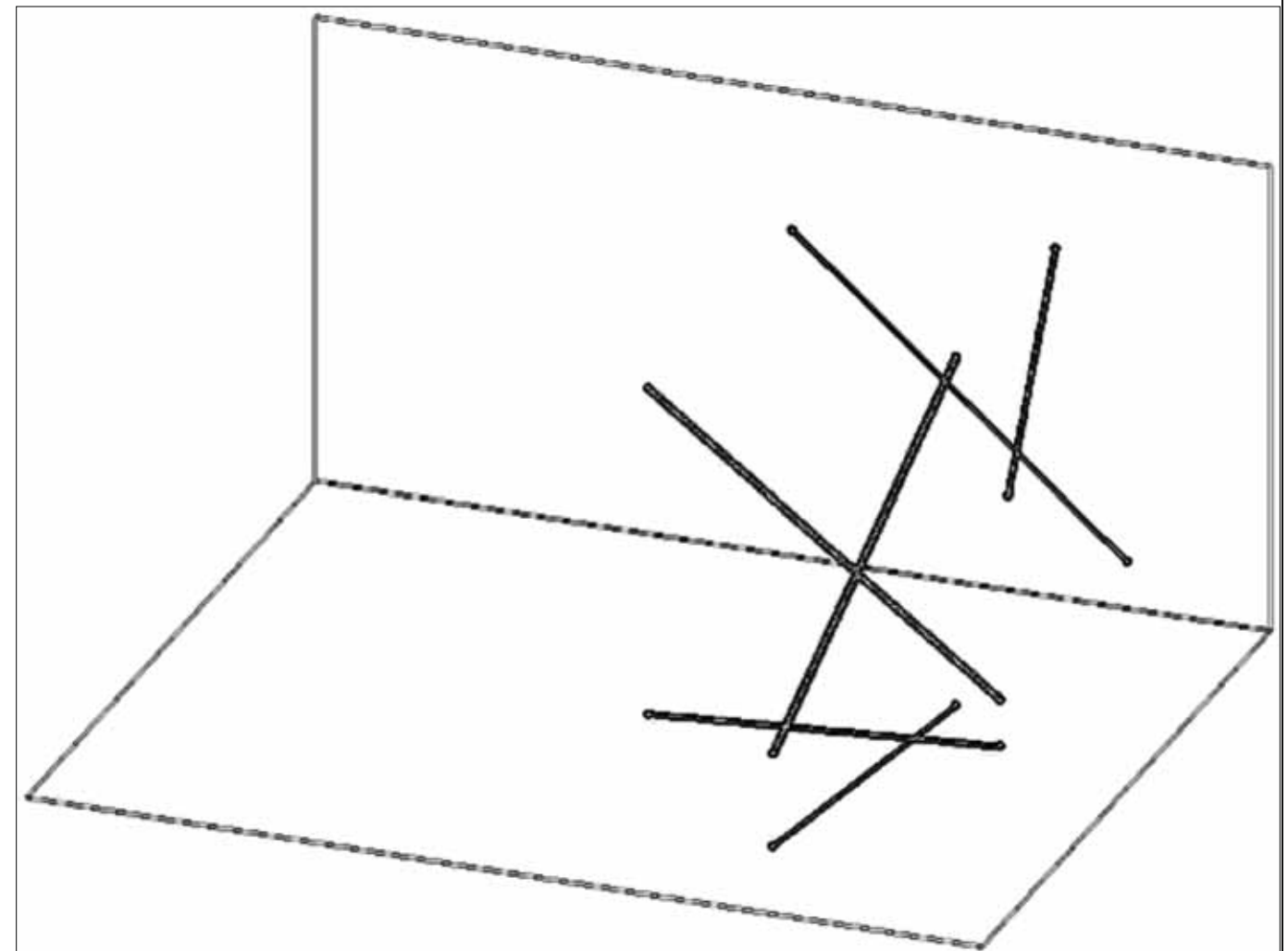
- (a) Aimsigh plána a choinníonn an líne CD agus atá comhthreomhar leis an líne AB.
- (b) Cruthaigh go bhfuil an plána comhthreomhar leis an líne.



### Bunphrionsabail

Fanann línte comhthreomhara go comhthreomhar i ngach cló ach amháin i gclónna ina nochtar iad mar.....nó i gclónna ina bhfuil líne amháin taobh thiar de líne eile.

Má tá líne comhthreomhar le líne ar bithar an bplána, tá sé comhthreomhar leis na .....



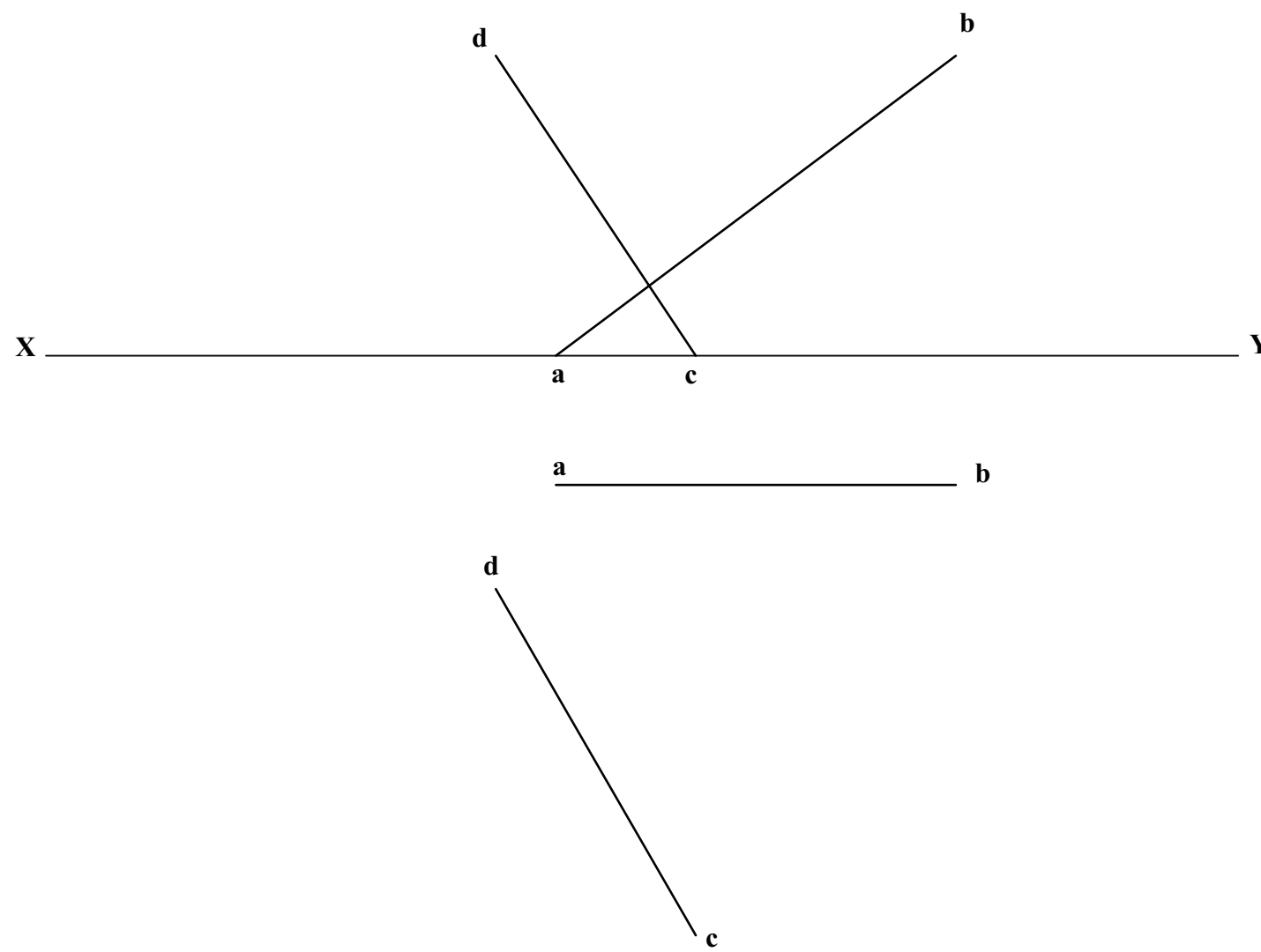
Seasann an dá líne sceabhacha AB agus CD don dá threo inar thuirling beirt léimneoirí parasiúit.

- (a) Déan an t-achar is giorra idir an dá líne sceabhacha a chinneadh.
- (b) Déan teilgin an achair is giorra a chinneadh



Bunphrionsabal

Tarraingítear plána a choinníonn ceann de na línte agus a bhfuil líne ann atá comhthreomhar leis an líne eile.



Seasann na línte sceabhacha Ab agus CD do threoanna dhá gha spóirt. Tá teilgin an achair is giorra eatarthu tugtha.

Déan teilgin an achair chothrománaigh is giorra eatarthu a chinneadh



Bunphrionsabal

Tarraingítear líne a choinníonn ceann de na línte agus a bhfuil líne ann atá ingearach leis an líne eile.

